

Российская олимпиада
школьников по искусству (МЭО)
в школе "Солн" ст. Светловодское
Начальник Марьяна Арсеньевна
9 класс

ВСЕРОССИЙСКАЯ ОЛИМПИАДА ШКОЛЬНИКОВ
ИСКУССТВО (МХК). 2025–2026 уч. г.
ШКОЛЬНЫЙ ЭТАП. 9 КЛАСС ЗАДАНИЯ

Максимальный балл за работу – 100.

Уважаемый участник!

При выполнении заданий вам предстоит определённая работа, которую лучше организовывать следующим образом:

- внимательно прочитайте задание и посмотрите на предложенные вам источники;
- если вы не уверены в ответе, не волнуйтесь – в материале заданий очень часто содержатся важные детали, опираясь на которые вы логически можете прийти к верному ответу;
- чётко распределяйте собственное время, обращая внимание на количество баллов за каждое задание.

За каждый правильный ответ вы можете получить определённое членами жюри количество баллов, но не выше указанной максимальной оценки.

Сумма набранных баллов за все решённые вопросы – итог вашей работы.
Максимальное количество баллов – 100.

Задания считаются выполненными, если вы в течение времени дали их членам жюри.

Желаем успеха!

Задания 1–3

Перед вами несколько графических изображений и портретов А.С. Пушкина, созданных в XIX и XX веках. Внимательно посмотрите на иллюстрации, подумайте, как, в каком возрасте, в какой обстановке, с какой интонацией нарисован поэт? Как устроено само изображение (построение линий, пятен, штрихов)?



1



2



3



4



5



6

Исходя из ваших наблюдений, ответьте на ряд вопросов:

1. На каком из рисунков автопортрет поэта. *2*
2. Какое изображение Пушкина выполнено знаменитым режиссёром, художником, основателем театра марионеток и создателем кукол? *5*
3. Распределите иллюстрации на две группы: созданные в XIX и XX веке.

19 в - 2, 3, 4.

XX в - 1, 5, 6.

5 Задание 04

Что является лишним в ряду?

Укажите лишний термин.

A-батик

B-выколотка

C-чеканка

D - гравировка

Правильный ответ - *A*

5 Задание 05

Что является лишним в ряду?

Укажите лишнее имя.

A-Клаудио Монтеверди

B-Георг Фридрих Гендель

C-Феликс Мендельсон Бартольди

D-Иоганн Себастьян Бах

Правильный ответ - *C*

5 Задание 06

Что является лишним в ряду?

Укажите лишний термин.

А-Готика

В-Импрессионизм

С-Классицизм

Д-Конструктивизм

Правильный ответ – В

5 Задание 07

Что является лишним в ряду?

Укажите лишнее название музыкального произведения.

А-Щелкунчик

В-Жизель

С-Спящая красавица

Д - Лебединое озеро

Правильный ответ – В

5 Задание 08

Что является лишним в ряду?

Укажите лишний термин.

А-Фреска

В-Витраж

С-Рельеф

Д - Мозаика

Правильный ответ – С

5 Задание 09

Из представленных работ Альбрехта Дюрера отметьте одну, которая не входит в цикл «Мастерские гравюры»:

1



2



3




4



Правильный ответ - 4

0 Задание 10

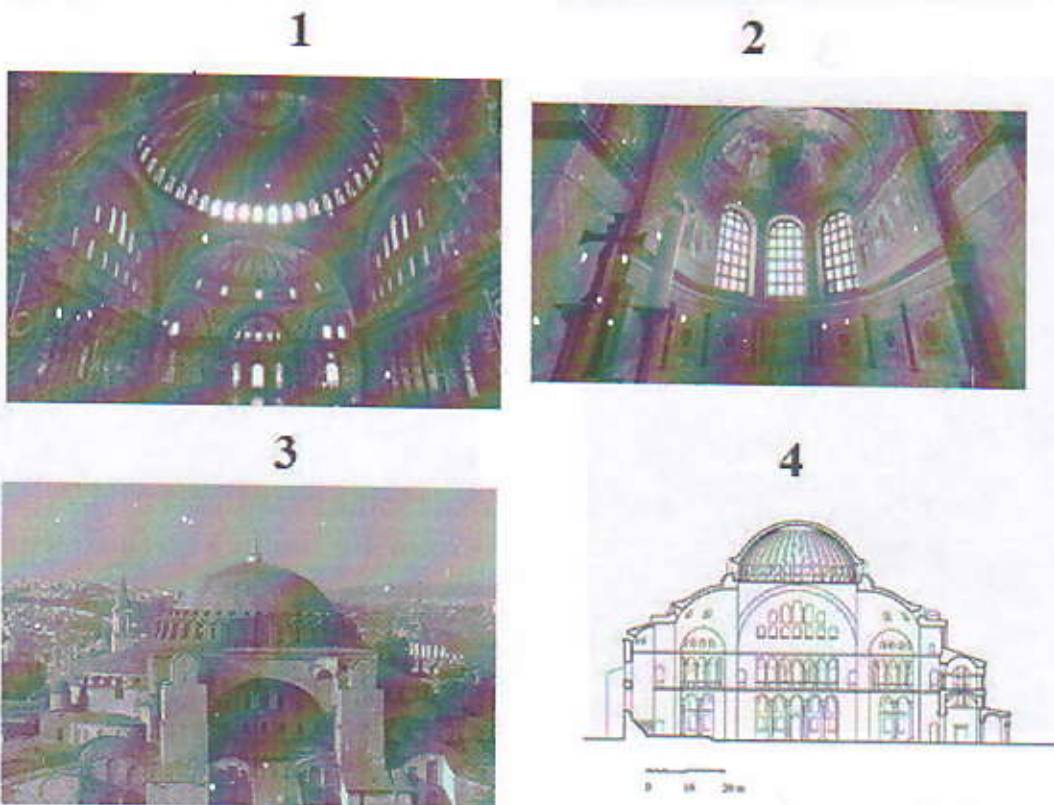
В ряду средневековых миниатюр представлены евангелисты.
Укажите лишнюю миниатюру.



Правильный ответ- 3

5 Задание 11

Из 4 представленных иллюстраций отметьте ту, которая не относится к храму Святой Софии в Константинополе:



Правильный ответ- 2

0 Задание 12

В ряду произведений Василия Поленова оказалась одна лишняя работа. Отметьте её.

1



2



3



4



Правильный ответ – 1

5 Задание 13

Музейные сотрудники готовят выставку, посвященную образу Иоанна Крестителя.

Укажите, какое из произведений они взяли на выставку по ошибке.

1



2



3



4




Правильный ответ - 1

0 **Задание 14**

Образецкакогонародногохудожественногопромыславывидитена
изображении?

Укажитеверныйответ.



А-Палехскаяроспись

В-Тагильскаяроспись

С-Жостовскаяроспись

Д-Холуйскаяроспись

Правильный ответ - В

5 Задание 15

Образецкакогонародногохудожественногопромыславывидитена
изображении?

Укажитеверныйответ.



А-Богородскаяигрушка

В-Дымковскаяигрушка

С-Филимоновскаяигрушка

Д-Каргопольскаяигрушка

Правильный ответ – А

5 Задание 16

Передвамисписоктерминовизразличныхобластейискусства.

Укажите5терминов,связанныхсмузыкальнымижанрами.

А-Аллегро

В-Каннелюра

С-Мазурка

Д-Мастихин

Е-Менуэт

Ф-Партер

Г-Романс

Н-Стаккато

І -Токката

Ј -Фуга

Правильный ответ- С, Е, G, І, Ј

5 Задание 17

Перед вами список терминов из различных областей искусства.

Укажите 5 предметов, необходимых для деятельности живописца.

А-Аллегро

В-Акватинта

С-Каннелюра

Д-Краски

Е-Мазурка

F-Мастихин

G-Мольберт

Н-Палитра

І -Партер

Ј -Холст

Правильный ответ- D, F, G, H, J

0 Задание 18

Какие слова пропущены в описании произведения?

На полотне художника ... изображен великий русский Он представлен по пояс с повернутой налево головой и скрещенными на груди руками. На правое плечо поэта накинут клетчатый шотландский плед — этой деталью художник обозначает связь героя с Байроном, кумиром эпохи романтизма. В глубине изображена статуя ... с лирой, выступающая главным атрибутом сферы деятельности героя.

Укажите верный вариант ответа.



А-Тропинина, прозаик, А.С.Пушкин, муза

В-Кипренского, поэт, А.С.Пушкин, Венеры

С-Брюллова, писатель, М.В.Лермонтов, Афродиты

Д-Кипренского, поэт, А.С.Пушкин, Музы

Правильный ответ - В

5 **Задание 19**

Посмотрите на изображение.

Какие из утверждений о нём, указанных ниже, является ложным?

Отметьте верный вариант ответа.



А- Это полотно написано И.Е.Репиным.

В- Работа находится в Государственном Русском музее.

С- Художник неоднократно переписывал работу, в том числе по просьбе П. Третьякова.

Д- В финальной версии полотна входящему мужчине автор придал черты писателя В. Гаршина.


Правильный ответ- **В**

Задание 20

Посмотрите на изображение.

Фрагмент какого известного полотна представлен в нем?

Отметьте верный вариант ответа.



А-М.Нестеров. Девушка у пруда

В-В.Васнецов. Три царевны подземного царства

С-И.Айвазовский. На берегу

Д-В.Васнецов. Алenuшка

Правильный ответ - **В**